

ERCIYES KOLEJİ

MATEMATİK DAHİLERİNİ  
ARIYOR!

ÖRNEK  
SORULAR



1994

ERCIYES  
KOLEJİ

Gelecek Bizimle Zirvede..

### 1. Soru

**Kolay Soru**

İstanbul'da öğrenci olan Hamza Kayseri'den saat 22:45'te hareket edecek olan İstanbul otobüsüne biniyor.

**Yolculuğu 12 saat 35 dakika sürdüğüne göre saat kaçta İstanbul'da olur?**

- A) 10:45                      B) 12:35  
C) 11:20                      D) 11:45

### 2. Soru

**Orta Güçlükte Soru**

$$\begin{array}{r}
 \cdot \cdot \\
 \cdot 3 \\
 \hline
 156 \\
 \cdot \cdot \cdot \\
 \hline
 18
 \end{array}$$

**Verilen bölme işleminde bölen kaçtır?**


- A) 46      B) 48      C) 52      D) 54

### 3. Soru

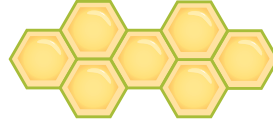
**Zor Soru**

**Kenarları birbirine eş, altı kenarlı şekillerin hangisinin çevresi en uzun olur?**

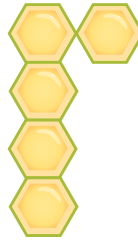
A)



B)



C)



D)

